

Algorithmique

Correction Contrôle n° 4 (C4)

INFO-SPÉ (S4) – EPITA

6 mars 2018 - 14 : 45

Solution 1 (Cut points, cut edges – 3 points)

1. La forêt couvrante associée au parcours en profondeur du graphe G_1 :

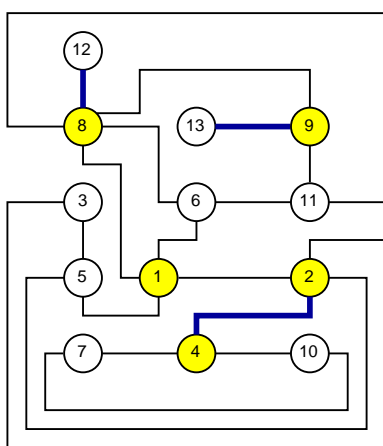


FIGURE 1 – Graphe G_1

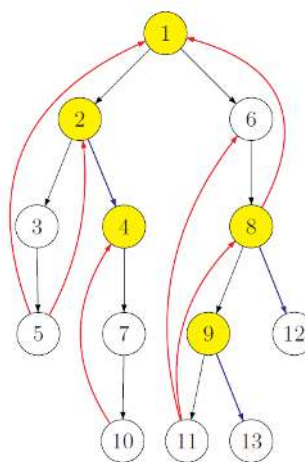


FIGURE 2 – Forêt couvrante

2. Les points d'articulation de G_1 : 1, 2, 4, 8, 9
3. Les isthmes (ponts) de G_1 : (2,4), (8,12), (9, 13).

Solution 2 (CFC et graphe réduit – 5 points)

1. Graphe \rightarrow graphe réduit

(a) Composantes fortement connexes du graphe G_2 :

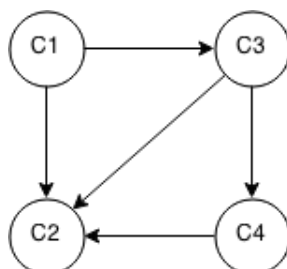
$$C_1 : \{0, 1\}$$

$$C_2 : \{2, 3, 4, 6, 7, 8\}$$

$$C_3 : \{5\}$$

$$C_4 : \{9\}$$

(b) Graphe réduit du graphe G_2 :



(c) L'ajout d'un arc d'un sommet de la composante C_2 vers un sommet de la composante C_1 crée un circuit passant par toutes les composantes et rend ainsi le graphe fortement connexe.

2. Graphe réduit \rightarrow graphe

- (a) Les sommets de la composante C_2 (les sommets de 4 à 7) ne sont pas atteignables depuis le sommet 0.
- (b) Parmi les chemins suivants, quels sont ceux qui ne peuvent pas exister dans G_3 ?
 - $3 \rightsquigarrow 7$
 - $4 \rightsquigarrow 21$ existe
 - $18 \rightsquigarrow 2$
 - $11 \rightsquigarrow 15$
- (c) Il suffit de deux arcs supplémentaires pour rendre le graphe G_3 fortement connexe :
par exemple $x_1 \rightarrow y_1$ avec $x_1 \in C_6, y_1 \in C_2$ et $x_2 \rightarrow y_2$ avec $x_2 \in C_4, y_2 \in C_6$

Solution 3 (Indicateurs globaux de connexité – 6 points)

Les indicateurs globaux de connexité mesurent le degré de fractionnement d'un graphe en composantes connexes séparées les unes de autres.

- 1. L'**indice de connexité pondéré** exprime la probabilité que deux sommets tirés au hasard puissent être reliés par une chaîne (i.e. appartiennent à la même composante connexe).

2. **Spécifications :**

La fonction `indexes(G)` calcule l'indice de connexité simple et l'indice de connexité pondéré du graphe G .

```
1         def __nbVertexDFS(G, s, M):
2             M[s] = True
3             nb = 1
4             for adj in G.adjlists[s]:
5                 if not M[adj]:
6                     nb += __nbVertexDFS(G, adj, M)
7             return nb
8
9         def connectivity(G):
10            M = [False]*G.order
11            k = 0
12            IC2 = 0
13            for s in range(G.order):
14                if not M[s]:
15                    k += 1
16                    nb = __nbVertexDFS(G, s, M)
17                    IC2 += nb*nb
18            IC1 = (G.order - k) / (G.order-1)
19            IC2 = IC2 / (G.order * G.order)
20            return (IC1, IC2)
```

Solution 4 (Fortement connexe ? – 7 points)

1. *Propriété(s) de la première racine de composante trouvée :*

Le graphe est fortement connexe si la première *racine de composante* trouvée lors du parcours est racine de l'unique arbre couvrant.

2. **Spécifications :**

La fonction `is_strong(G)` vérifie si le graphe orienté G est fortement connexe.

```
1     def __isStronglyConnected(G, x, pref, cpt):
2         cpt += 1
3         pref[x] = cpt
4         return_x = pref[x]
5         for y in G.adjlists[x]:
6             if pref[y] == 0:
7                 (ret_y, cpt) = __isStronglyConnected(G, y, pref, cpt)
8                 if ret_y == -1:
9                     return (-1, cpt)
10                return_x = min(return_x, ret_y)
11            else:
12                return_x = min(return_x, pref[y])
13
14        if return_x == pref[x]:
15            if pref[x] != 1: # the root must be the first vertex
16                return (-1, cpt)
17
18        return (return_x, cpt)
```

```
1     def isStronglyConnected(G):
2         pref = [0]*G.order
3         cpt = 0
4         (r, cpt) = __isStronglyConnected(G, 0, pref, cpt)
5         return (r != -1) and (cpt == G.order) # all vertices have been
        encountered
```